

Exercice 1: Le Bon James



Aujourd'hui, Le Bon James a tenté 42 paniers,
il en a réussi la moitié pour au final marquer 45 points.
Il n'a marqué que des paniers à 2 points ou à 3 points.

Combien de paniers à 2 points et de paniers à 3 points a-t-il réussi ?



Exercice 2 : Qui fait quoi ?

Greg et Gwendal ne pratiquent pas un jeu de balle alors que David oui.
Cassius et Gwendal pratiquent leur sport dans une salle contrairement à Greg qui fait un sport de plein air.
Le sport que pratique Mickaël ne sera jamais aux jeux olympiques d'été.



Retrouve le sport de chacun

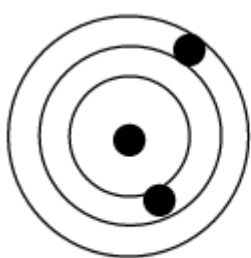
Exercice 3 : Enigme aux sports d'hiver...

Au moment où Yves qui est assis sur le siège n°8 croise le siège n°13, son copain Jean, qui occupe le siège n°4 croise le siège n°1. Bien sûr, les sièges sont régulièrement espacés sur le câble et sont numérotés dans l'ordre à partir du n°1. **Combien ce télésiège comporte-t-il de sièges ?**

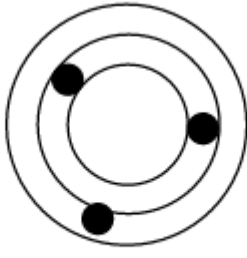


Exercice 4 : Tir à l'arc

Au concours de tir à l'arc, Fatou a obtenu lors des 3 premières manches les scores suivants :



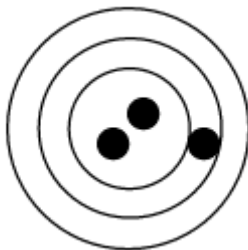

16 points



13 points



14 points



Voici sa cible lors de la 4ème manche.

Quel est son score pour cette 4ème manche ?

Exercice 5 : La cible de Moussa

Moussa a fabriqué une cible triangulaire dans laquelle 4 zones identiques seront constituées de triangles équilatéraux de 2 cm de côté.

Dessiner cette cible sur la fiche réponse

Exercice 6 : Une partie endiablée

Mohamed, Babacar, Quentin et Georges jouent une partie de foot à la récréation.

Quentin a marqué 3 buts de plus que Babacar, Georges a marqué 2 buts de moins que Babacar et Mohamed n'est ni celui qui a marqué le plus de buts, ni celui qui en a marqué le moins.

Sachant qu'en tout il y a eu 16 buts dans cette partie, combien de buts ont marqué chacun des enfants ?

Question subsidiaire : Mohamed a gagné le match. Quel était le score ?